

ВСЕРОССИЙСКАЯ ОЛИМПИАДА  
ШКОЛЬНИКОВ ПО ОБЖ. 2023–2024 уч. г.  
ШКОЛЬНЫЙ ЭТАП. 10–11 КЛАССЫ

Тестовые задания

Определите один правильный ответ.

За правильный ответ начисляется 2 балла.



70

1. О чём предупреждает изображённый дорожный знак?
- 2
- а) о скользкой дороге
  - б) о неровной дороге
  - в) об извилистой дороге
  - г) об искусственной неровности



2. Определите смысловое значение данного знака на водных объектах г. Москвы.
- 2
- а) «Кататься на воде запрещено»
  - б) «Плывать на подручных средствах запрещено»
  - в) «При плавании на подручных средствах приближаться друг к другу запрещено»
  - г) «Буксируемые аттракционы на воде запрещены»



3. Чему приблизительно равно расстояние до грозового фронта, если после вспышки молнии до грома прошло 7 с?
- 2
- а) 1780 м
  - б) 3330 м
  - в) 4230 м
  - г) 2380 м
4. Тайфун – местное название тропических ..., возникающих в районе Южно-Китайского моря, Филиппинских островов, в редких случаях доходящих до Приморского края Российской Федерации.
- 2
- а) ураганов
  - б) циклонов
  - в) штормов
  - г) смерчей
5. Что нельзя делать ни в коем случае, если на улице к вам подошли люди и спрашивают, как найти улицу (дом)?
- 2
- а) объяснять дорогу
  - б) провожать их
  - в) рисовать схему
  - г) вступать в разговор

6. **Какое воинское звание имеет действующий министр обороны РФ?**

- 2  
а) генерал-лейтенант  
б) генерал армии  
в) Маршал РФ  
г) генерал-полковник

7. **С какого возраста граждане мужского пола получают подготовку по военно-учётным специальностям солдат, матросов, сержантов и старшин в общественных объединениях, общественно-государственных организациях и профессиональных образовательных организациях?**

- 2  
а) с 15 лет  
б) с 18 лет  
в) с 16 лет  
г) с 17 лет

8. **На изображении представлен**

- 2  
а) ПМ  
б) ПММ  
в) ПСМ  
г) ПЛК



9. **Выберите метод специфической профилактики инфекционных заболеваний.**

- 0  
а) закаливание  
б) приём витаминов  
в) применение профилактических прививок  
г) занятия физической культурой

10. **До какого возраста пострадавшего запрещено выполнять надавливание на живот (приём Геймлиха) при попадании инородного тела в верхние дыхательные пути?**

- 2  
а) до 1 года  
б) до 3 лет  
в) до 7 лет  
г) до 14 лет

**Определите два правильных ответа.**

За каждый правильный ответ начисляется 2 балла.

**1. Определите смысловое значение и область применения данного знака безопасности на объектах инфраструктуры ОАО «РЖД».**

- 0
- а) «Доступ посторонним запрещён!»
  - б) «Стоять, опасно для жизни!»
  - в) «Проход запрещён!»
  - г) устанавливается в непосредственной близости от мест возможных действий
  - д) устанавливается на платформе



**2. Определите смысловое значение и область применения СИНЕГО сигнального цвета в знаках безопасности.**

- 2
- а) указание
  - б) разрешение определённых действий
  - в) помощь, спасение
  - г) сообщение о нормальной работе оборудования, нормальном состоянии технологического процесса
  - д) предупреждение, предостережение о возможной опасности

**3. Выберите параметры техногенной чрезвычайной ситуации регионального характера.**

- 1
- а) зона чрезвычайной ситуации затрагивает территорию двух и более муниципальных районов, муниципальных округов, городских округов, расположенных на территории одного субъекта Российской Федерации
  - б) количество людей, погибших и (или) получивших ущерб здоровью, составляет свыше 500 человек либо размер материального ущерба составляет свыше 1,2 млрд рублей
  - в) количество людей, погибших и (или) получивших ущерб здоровью, составляет свыше 50 человек, но не более 500 человек, либо размер материального ущерба составляет свыше 12 млн рублей, но не более 1,2 млрд рублей
  - г) количество людей, погибших и (или) получивших ущерб здоровью, составляет не более 50 человек, либо размер материального ущерба составляет не более 12 млн рублей
  - д) зона чрезвычайной ситуации не выходит за пределы территории одного субъекта Российской Федерации

4. **Что может являться источником биолого-социальной ЧС?**

- а) железнодорожная авария  
б) катастрофа  
2 в) эпидемия  
г) цунами  
д) пандемия

5. **Сообщения какой тематики принимает Главное управление уголовного розыска МВД России?**

- а) о распространении информации, наносящей вред здоровью и развитию детей  
2 б) о незаконном обороте оружия  
в) об интернет-мошенничестве  
г) о пропаганде социальной, расовой, национальной или религиозной розни  
д) о скулшутинге

6. **Выберите отдельные рода войск ВС РФ.**

- 1 а) РВСН  
б) ПВО  
в) ВМФ  
г) РХБЗ  
д) ВДВ

7. **Для гражданина Российской Федерации защита Отечества является**

- 2 а) правом  
б) предназначением  
в) обязательством  
г) долгом  
д) обязанностью

8. **Автомат Калашникова калибра 5,56 мм АК-19 был разработан на базе автомата ... калибра ... и является индивидуальным стрелковым оружием.**

- 2 а) 5,45 мм  
б) 7,62 мм  
в) АК-12  
г) АКМ  
д) АК-15

9. **Недостаток йода в организме человека может приводить к**

- 1 а) «куриной слепоте»  
б) повышенной кровоточивости  
в) нарушению синтеза тироксина  
г) нарушению синтеза инсулина  
д) снижению интеллекта в раннем детском возрасте

10. При каких травмах и (или) состояниях пострадавшему придают оптимальное положение тела, изображённое на рисунке?

- а) травма позвоночника  
б) затруднение дыхания (одышка)  
в) травма таза  
г) большая кровопотеря (травматический шок)  
д) травма живота



2

### Теоретические задания

#### Задание 1

Расположите предложенные фрагменты в верной последовательности, чтобы в итоге получилось определение.

или без него, рабочий объём	1
превышает 50 куб. см или максимальная конструктивная	2
двигателя которого (в случае двигателя внутреннего сгорания)	3
скорость (при любом двигателе) превышает 50 км/ч	4
двухколёсное механическое транспортное средство с боковым прицепом	5

Запишите термин, определение которому Вы составили.

Мотоцикл

Укажите категорию и возраст, с которого предоставляется право управления транспортным средством, определение которому Вы составили. Категорию укажите заглавной латинской буквой, возраст – числом.

Категория – А

Возраст – 16






Задача 1  
51324

105

## Задание 2

Сопоставьте изображения авиационной техники воздушно-космических сил Российской Федерации с их наименованиями.

- Ту-160
- Бе-200
- Ту-95МС
- Ту-22М3
- Су-30МК
- МиГ-35
- Як-130
- Су-57

	Ту-160	2
	Су-30МК	2
	Ту-95МС	2
	Су-57	2
	МиГ-35	2

105


### Задание 3

Определите эмблемы и даты профессиональных праздников, соответствующие видам и родам войск.

Даты профессиональных праздников:

- последнее воскресенье июля
- 1 августа
- 1 октября
- 17 декабря
- 2 августа
- 2 февраля
- 27 января
- 1 марта
- 3 сентября

Эмблемы:



Виды/ рода войск	Даты профессиональных праздников	Эмблемы
Сухопутные войска	1 октября	5
Воздушно-космические силы	1 августа	2
Военно-морской флот	последнее воскресенье июля	3
Ракетные войска стратегического назначения	17 декабря	1
Воздушно-десантные войска	2 августа	4

105

### Задание 4

Установите соответствие между типом повязки и её характеристикой (описанием).

Тип повязки	Характеристика повязки
1 Ползучая	А Накладывается в области локтевого или коленного суставов. Существует в двух вариантах: расходящаяся (повязка начинается в области сустава и чередуется турами бинта, которые накладываются выше и ниже сустава) и сходящаяся (повязка начинается с наложения двух круговых туров выше и ниже сустава, далее осуществляется бинтование по сходящемуся типу)
2 Циркулярная	Б Применяется в двух вариантах. Первый – без перегибов накладывается на цилиндрические части тела (плечо, бедро), второй – с перегибами накладывается на конусообразные части тела (голень, предплечье). Каждый последующий тур бинта перекрывает предыдущий на половину или две трети его ширины
3 Черепашья	В Применяется для фиксации большого по протяжённости перевязочного материала на верхних или нижних конечностях. Между отдельными турами остаётся свободное пространство, равное примерно ширине бинта
4 Працевидная	Г Представляет собой разрезанную с двух сторон полосу марли (бинта) или любой мягкой материи
5 Спиральная	Д Является началом любой мягкой бинтовой повязки и может быть самостоятельной при бинтовании в области лучезапястного сустава, плеча, головы на небольших по протяжённости участках повреждения

12345  
ВДАГБ

105

Максимальная оценка за работу – 100 баллов.



ВСЕРОССИЙСКАЯ ОЛИМПИАДА  
ШКОЛЬНИКОВ ПО ОБЖ. 2023–2024 уч. г.  
ШКОЛЬНЫЙ ЭТАП. 10–11 КЛАССЫ

Тестовые задания

Определите один правильный ответ.

За правильный ответ начисляется 2 балла.

760

+  
80


1. О чём предупреждает изображённый дорожный знак?

- 2
- а) о скользкой дороге
  - б) о неровной дороге
  - в) об извилистой дороге
  - г) об искусственной неровности



2. Определите смысловое значение данного знака на водных объектах г. Москвы.

- 2
- а) «Кататься на воде запрещено»
  - б) «Плывать на подручных средствах запрещено»
  - в) «При плавании на подручных средствах приближаться друг к другу запрещено»
  - г) «Буксируемые аттракционы на воде запрещены»



3. Чему приблизительно равно расстояние до грозового фронта, если после вспышки молнии до грома прошло 7 с?

- 2
- а) 1780 м
  - б) 3330 м
  - в) 4230 м
  - г) 2380 м

4. Тайфун – местное название тропических ..., возникающих в районе Южно-Китайского моря, Филиппинских островов, в редких случаях доходящих до Приморского края Российской Федерации.

- 2
- а) ураганов
  - б) циклонов
  - в) штормов
  - г) смерчей

5. Что нельзя делать ни в коем случае, если на улице к вам подошли люди и спрашивают, как найти улицу (дом)?

- 2
- а) объяснять дорогу
  - б) провожать их
  - в) рисовать схему
  - г) вступать в разговор

6. **Какое воинское звание имеет действующий министр обороны РФ?**

- а) генерал-лейтенант
- б) генерал армии
- в) Маршал РФ
- г) генерал-полковник

7. **С какого возраста граждане мужского пола получают подготовку по военно-учётным специальностям солдат, матросов, сержантов и старшин в общественных объединениях, общественно-государственных организациях и профессиональных образовательных организациях?**

- а) с 15 лет
- б) с 18 лет
- в) с 16 лет
- г) с 17 лет

8. **На изображении представлен**

- а) ПМ
- б) ПММ
- в) ПСМ
- г) ПЛК



9. **Выберите метод специфической профилактики инфекционных заболеваний.**

- а) закаливание
- б) приём витаминов
- в) применение профилактических прививок
- г) занятия физической культурой

10. **До какого возраста пострадавшего запрещено выполнять надавливание на живот (приём Геймлиха) при попадании инородного тела в верхние дыхательные пути?**

- а) до 1 года
- б) до 3 лет
- в) до 7 лет
- г) до 14 лет

**Определите два правильных ответа.**

За каждый правильный ответ начисляется 2 балла.

1. **Определите смысловое значение и область применения данного знака безопасности на объектах инфраструктуры ОАО «РЖД».**

- а) «Доступ посторонним запрещён!»  
б) «Стой, опасно для жизни!»  
в) «Проход запрещён!»  
г) устанавливается в непосредственной близости от мест возможных действий  
д) устанавливается на платформе



2. **Определите смысловое значение и область применения СИНЕГО сигнального цвета в знаках безопасности.**

- а) указание  
б) разрешение определённых действий  
в) помощь, спасение  
г) сообщение о нормальной работе оборудования, нормальном состоянии технологического процесса  
д) предупреждение, предостережение о возможной опасности

3. **Выберите параметры техногенной чрезвычайной ситуации регионального характера.**

- а) зона чрезвычайной ситуации затрагивает территорию двух и более муниципальных районов, муниципальных округов, городских округов, расположенных на территории одного субъекта Российской Федерации  
б) количество людей, погибших и (или) получивших ущерб здоровью, составляет свыше 500 человек либо размер материального ущерба составляет свыше 1,2 млрд рублей  
в) количество людей, погибших и (или) получивших ущерб здоровью, составляет свыше 50 человек, но не более 500 человек, либо размер материального ущерба составляет свыше 12 млн рублей, но не более 1,2 млрд рублей  
г) количество людей, погибших и (или) получивших ущерб здоровью, составляет не более 50 человек, либо размер материального ущерба составляет не более 12 млн рублей  
д) зона чрезвычайной ситуации не выходит за пределы территории одного субъекта Российской Федерации

4. **Что может являться источником биолого-социальной ЧС?**

- а) железнодорожная авария
- б) катастрофа
- в) эпидемия
- г) цунами
- д) панфитотия

5. **Сообщения какой тематики принимает Главное управление уголовного розыска МВД России?**

- а) о распространении информации, наносящей вред здоровью и развитию детей
- б) о незаконном обороте оружия
- в) об интернет-мошенничестве
- г) о пропаганде социальной, расовой, национальной или религиозной розни
- д) о скулшутинге

6. **Выберите отдельные рода войск ВС РФ.**

- а) РВСН
- б) ПВО
- в) ВМФ
- г) РХБЗ
- д) ВДВ

7. **Для гражданина Российской Федерации защита Отечества является**

- а) правом
- б) предназначением
- в) обязательством
- г) долгом
- д) обязанностью

8. **Автомат Калашникова калибра 5,56 мм АК-19 был разработан на базе автомата ... калибра ... и является индивидуальным стрелковым оружием.**


- а) 5,45 мм
- б) 7,62 мм
- в) АК-12
- г) АКМ
- д) АК-15

9. **Недостаток йода в организме человека может приводить к**

- а) «куриной слепоте»
- б) повышенной кровоточивости
- в) нарушению синтеза тироксина
- г) нарушению синтеза инсулина
- д) снижению интеллекта в раннем детском возрасте

10. При каких травмах и (или) состояниях пострадавшему придают оптимальное положение тела, изображённое на рисунке?

- 2
- а) травма позвоночника
  - б) затруднение дыхания (одышка)
  - в) травма таза
  - г) большая кровопотеря (травматический шок)
  - д) травма живота



### Теоретические задания

#### Задание 1

Расположите предложенные фрагменты в верной последовательности, чтобы в итоге получилось определение.

или без него, рабочий объём	1
превышает 50 куб. см или максимальная конструктивная	2
двигателя которого (в случае двигателя внутреннего сгорания)	3
скорость (при любом двигателе) превышает 50 км/ч	4
двухколёсное механическое транспортное средство с боковым прицепом	5

Запишите термин, определение которому Вы составили.

Укажите категорию и возраст, с которого предоставляется право управления транспортным средством, определение которому Вы составили. Категорию укажите заглавной латинской буквой, возраст – числом.

Категория – А

Возраст – 18

Мотоцикл – двухколёсное механическое транспортное средство с боковым прицепом или без него, рабочий объём двигателя которого (в случае двигателя внутреннего сгорания) превышает 50 куб. см или максимальная конструктивная скорость (при любом двигателе) превышает 50 км/ч.

1050

## Задание 2

Сопоставьте изображения авиационной техники воздушно-космических сил Российской Федерации с их наименованиями.

- Ту-160
- Бе-200
- Ту-95МС
- Ту-22М3
- Су-30МК
- МиГ-35
- Як-130
- Су-57

	Ту-160. ✓
	Су-30МК. ✓
	Ту-95МС. ✓
	Су-57. ✓
	МиГ-35. ✓

105


### Задание 3

Определите эмблемы и даты профессиональных праздников, соответствующие видам и родам войск.

Даты профессиональных праздников:

- последнее воскресенье июля
- 1 августа
- 1 октября
- 17 декабря
- 2 августа
- 2 февраля
- 27 января
- 1 марта
- 3 сентября

Эмблемы:



Виды/ рода войск	Даты профессиональных праздников	Эмблемы
Сухопутные войска	1 октября	5
Воздушно-космические силы	1 августа	2
Военно-морской флот	последнее воскресенье июля	3
Ракетные войска стратегического назначения	17 декабря	1
Воздушно-десантные войска	2 августа	4

105

### Задание 4

Установите соответствие между типом повязки и её характеристикой (описанием).

Тип повязки	Характеристика повязки
Ползучая ✓	Накладывается в области локтевого или коленного суставов. Существует в двух вариантах: расходящаяся (повязка начинается в области сустава и чередуется турами бинта, которые накладываются выше и ниже сустава) и сходящаяся (повязка начинается с наложения двух круговых туров выше и ниже сустава, далее осуществляется бинтование по сходящемуся типу)
Циркулярная ✓	Применяется в двух вариантах. Первый – без перегибов накладывается на цилиндрические части тела (плечо, бедро), второй – с перегибами накладывается на конусообразные части тела (голень, предплечье). Каждый последующий тур бинта перекрывает предыдущий на половину или две трети его ширины
Черепашья ✓	Применяется для фиксации большого по протяжённости перевязочного материала на верхних или нижних конечностях. Между отдельными турами остаётся свободное пространство, равное примерно ширине бинта
Працевидная ✓	Представляет собой разрезанную с двух сторон полосу марли (бинта) или любой мягкой материи
Спиральная ✓	Является началом любой мягкой бинтовой повязки и может быть самостоятельной при бинтовании в области лучезапястного сустава, плеча, головы на небольших по протяжённости участках повреждения

105

Максимальная оценка за работу – 100 баллов.



ВСЕРОССИЙСКАЯ ОЛИМПИАДА  
ШКОЛЬНИКОВ ПО ОБЖ. 2023–2024 уч. г.  
ШКОЛЬНЫЙ ЭТАП. 10–11 КЛАССЫ



Тестовые задания

Определите один правильный ответ.

За правильный ответ начисляется 2 балла.

7  
20

1. О чём предупреждает изображённый дорожный знак?

2


- а) о скользкой дороге
- б) о неровной дороге
- в) об извилистой дороге
- г) об искусственной неровности



2. Определите смысловое значение данного знака на водных объектах г. Москвы.

2

- а) «Кататься на воде запрещено»
- б) «Плывать на подручных средствах запрещено»
- в) «При плавании на подручных средствах приближаться друг к другу запрещено»
- г) «Буксируемые аттракционы на воде запрещены»



3. Чему приблизительно равно расстояние до грозового фронта, если после вспышки молнии до грома прошло 7 с?

2

- а) 1780 м
- б) 3330 м
- в) 4230 м
- г) 2380 м

4. Тайфун – местное название тропических ..., возникающих в районе Южно-Китайского моря, Филиппинских островов, в редких случаях доходящих до Приморского края Российской Федерации.

2

- а) ураганов
- б) циклонов
- в) штормов
- г) смерчей

5. Что нельзя делать ни в коем случае, если на улице к вам подошли люди и спрашивают, как найти улицу (дом)?

2

- а) объяснять дорогу
- б) провожать их
- в) рисовать схему
- г) вступать в разговор

6. **Какое воинское звание имеет действующий министр обороны РФ?**  
а) генерал-лейтенант  
2 б) генерал армии  
в) Маршал РФ  
г) генерал-полковник
7. **С какого возраста граждане мужского пола получают подготовку по военно-учётным специальностям солдат, матросов, сержантов и старшин в общественных объединениях, общественно-государственных организациях и профессиональных образовательных организациях?**  
а) с 15 лет  
2 б) с 18 лет  
в) с 16 лет  
г) с 17 лет
8. **На изображении представлен**  
а) ПМ  
2 б) ПММ  
в) ПСМ  
г) ПЛК
- 
9. **Выберите метод специфической профилактики инфекционных заболеваний.**  
0 а) закаливание  
б) приём витаминов  
в) применение профилактических прививок  
г) занятия физической культурой
10. **До какого возраста пострадавшего запрещено выполнять надавливание на живот (приём Геймлиха) при попадании инородного тела в верхние дыхательные пути?**  
2 а) до 1 года  
б) до 3 лет  
в) до 7 лет  
г) до 14 лет

**Определите два правильных ответа.**

За каждый правильный ответ начисляется 2 балла.

1. **Определите смысловое значение и область применения данного знака безопасности на объектах инфраструктуры ОАО «РЖД».**

- а) «Доступ посторонним запрещён!»  
б) «Стоять, опасно для жизни!»  
в) «Проход запрещён!»  
г) устанавливается в непосредственной близости от мест возможных действий  
д) устанавливается на платформе



2. **Определите смысловое значение и область применения СИНЕГО сигнального цвета в знаках безопасности.**

- а) указание  
б) разрешение определенных действий  
в) помощь, спасение  
г) сообщение о нормальной работе оборудования, нормальном состоянии технологического процесса  
д) предупреждение, предостережение о возможной опасности

3. **Выберите параметры техногенной чрезвычайной ситуации регионального характера.**

- а) зона чрезвычайной ситуации затрагивает территорию двух и более муниципальных районов, муниципальных округов, городских округов, расположенных на территории одного субъекта Российской Федерации  
б) количество людей, погибших и (или) получивших ущерб здоровью, составляет свыше 500 человек либо размер материального ущерба составляет свыше 1,2 млрд рублей  
в) количество людей, погибших и (или) получивших ущерб здоровью, составляет свыше 50 человек, но не более 500 человек, либо размер материального ущерба составляет свыше 12 млн рублей, но не более 1,2 млрд рублей  
г) количество людей, погибших и (или) получивших ущерб здоровью, составляет не более 50 человек, либо размер материального ущерба составляет не более 12 млн рублей  
д) зона чрезвычайной ситуации не выходит за пределы территории одного субъекта Российской Федерации

4. **Что может являться источником биолого-социальной ЧС?**

- а) железнодорожная авария  
б) катастрофа  
в)  эпидемия  
г) цунами  
д)  панфитотия

5. **Сообщения какой тематики принимает Главное управление уголовного розыска МВД России?**

- а) о распространении информации, наносящей вред здоровью и развитию детей  
б)  о незаконном обороте оружия  
в) об интернет-мошенничестве  
г) о пропаганде социальной, расовой, национальной или религиозной розни  
д)  о скулшутинге

6. **Выберите отдельные рода войск ВС РФ.**

- а) РВСН  
б) ПВО  
в)  ВМФ  
г) РХБЗ  
д)  ВДВ

7. **Для гражданина Российской Федерации защита Отечества является**

- а) правом  
б) предназначением  
в) обязательством  
г)  долгом  
д)  обязанностью

8. **Автомат Калашникова калибра 5,56 мм АК-19 был разработан на базе автомата ... калибра ... и является индивидуальным стрелковым оружием.**


- а)  5,45 мм  
б)  7,62 мм  
в)  АК-12  
г) АКМ  
д) АК-15

9. **Недостаток йода в организме человека может приводить к**

- а) «куриной слепоте»  
б) повышенной кровоточивости  
в)  нарушению синтеза тироксина  
г)  нарушению синтеза инсулина  
д) снижению интеллекта в раннем детском возрасте

10. При каких травмах и (или) состояниях пострадавшему придают оптимальное положение тела, изображённое на рисунке?

- а) травма позвоночника  
б) затруднение дыхания (одышка)  
в) травма таза  
г) большая кровопотеря (травматический шок)  
д) травма живота



### Теоретические задания

#### Задание 1

Расположите предложенные фрагменты в верной последовательности, чтобы в итоге получилось определение.

или без него, рабочий объём	1
превышает 50 куб. см или максимальная конструктивная	2
двигателя которого (в случае двигателя внутреннего сгорания)	3
скорость (при любом двигателе) превышает 50 км/ч	4
двухколёсное механическое транспортное средство с боковым прицепом	5

Запишите термин, определение которому Вы составили.

Укажите категорию и возраст, с которого предоставляется право управления транспортным средством, определение которому Вы составили. Категорию укажите заглавной латинской буквой, возраст – числом.

Категория – А

Возраст – 18

Задание.

51324



Мотоцикл

6

### Задание 2

Сопоставьте изображения авиационной техники воздушно-космических сил Российской Федерации с их наименованиями.

- Ту-160
- Бе-200
- Ту-95МС
- Ту-22М3
- Су-30МК
- МиГ-35
- Як-130
- Су-57

	Ту-160 25
	Су-30МК 25
	Ту-95МС 25
	Су-57 25
	МиГ-35 25


### Задание 3

Определите эмблемы и даты профессиональных праздников, соответствующие видам и родам войск.

Даты профессиональных праздников:

- последнее воскресенье июля
- 1 августа
- 1 октября
- 17 декабря
- 2 августа
- 2 февраля
- 27 января
- 1 марта
- 3 сентября

Эмблемы:



Виды/ рода войск	Даты профессиональных праздников	Эмблемы
Сухопутные войска	1 октября 25	5
Воздушно-космические силы	1 августа 25	2
Военно-морской флот	последнее воскресенье июля 25	3
Ракетные войска стратегического назначения	17 декабря 25	1
Воздушно-десантные войска	2 августа 25	4

105

ВСЕРОССИЙСКАЯ ОЛИМПИАДА  
ШКОЛЬНИКОВ ПО ОБЖ. 2023–2024 уч. г.  
ШКОЛЬНЫЙ ЭТАП. 7–8 КЛАССЫ

Тестовые задания

100 + 80

Определите один правильный ответ.

За правильный ответ начисляется 2 балла.

1. Определите смысловое значение изображённого дорожного знака.

- а) велосипедная дорожка
- б) приоритет велосипеда при движении
- ✓ в) полоса для велосипедистов
- ⓐ г) пересечение с велосипедной дорожкой или велопешеходной дорожкой



2. Владелец имеет право оставлять свою собаку привязанной возле магазина на

- а) неограниченное время в наморднике
- б) неограниченное время, на коротком поводке
- в) ограниченное время, на длинном поводке, но в наморднике
- ✓ г) ограниченное время, на коротком поводке

3. Определите смысловое значение данного знака на водных объектах г. Москвы.

- а) «В воде проводятся очистительные работы»
- б) «Стоять! Опасное дно»
- ✓ в) «Входить в воду запрещено!»
- ⓐ г) «Опасно! Грязная вода»



4. Молния опасна тогда, когда вслед за вспышкой следует

- а) сильный порывистый ветер
- ✓ б) раскат грома
- в) ливневый дождь
- г) период затишья в течение не менее 10 секунд

5. Резкое кратковременное усиление ветра до 20–30 м/с и выше, сопровождающееся изменением его направления, связанное с конвективными процессами, – это

- а) вихрь
- б) смерч
- в) циклон
- ✓ г) шквал



6. **Отрыв и падение больших масс горных пород на крутых и обрывистых склонах гор, речных долин и морских побережий, происходящих главным образом за счёт ослабления связности горных пород под влиянием процессов выветривания, деятельности поверхностных и подземных вод, является**
- а) оползнем
  - б) карстовой просадкой
  - ✓ в) обвалом
  - г) курумом
7. **Кому в первую очередь необходимо сообщить об обнаружении подозрительного предмета в вагоне метро?**
- а) сотруднику МЧС по телефону
  - б) дежурному на станции по переговорному устройству
  - ✓ в) сотруднику полиции по телефону
  - г) машинисту поезда по переговорному устройству
8. **Наибольшей энергетической ценностью обладают**
- а) белки
  - б) углеводы
  - ✓ в) жиры
  - г) минеральные вещества
9. **При какой травме и (или) состоянии пострадавшему придают оптимальное положение тела, изображённое на рисунке?**
- ✓ а) большая кровопотеря, пострадавший в сознании
  - б) большая кровопотеря, пострадавший без сознания
  - в) травма груди, пострадавший в сознании
  - г) травма головы, пострадавший без сознания



**Определите два правильных ответа.**

За каждый правильный ответ начисляется 2 балла.

1. **Определите смысловое значение и область применения данного знака безопасности на объектах инфраструктуры ОАО «РЖД».**

- а) устанавливается на территории платформ железнодорожных станций и вокзалов, у переходов и переездов через железнодорожные пути
- ✓  б) «Берегись поезда!»
- ✓  в) устанавливается в местах прохода граждан через железнодорожные пути
- г) «Движение скоростных поездов»
- д) «Переходить через железнодорожные пути опасно»



2. **Определите смысловое значение и группу данного знака безопасности.**

- ✓  а) предупреждающий знак
- б) «Ядовитые вещества»
- в) предписывающий знак
- г) «Запрещается брать руками»
- ✓  д) «Опасно. Едкие и коррозионные вещества»



3. **Какие узлы рекомендуется использовать для закрепления веревок к опоре?**

- а) булинь
- б) грейпвайн
- в) «двойной проводник»
- г) прусик
- ✓  д) «штык»

4. **Выберите параметры природной ЧС локального характера, территория которой не выходит за пределы территории объекта.**

- а) количество людей, погибших и (или) получивших ущерб здоровью, составляет не более 50 человек
- ✓  б) размер ущерба окружающей природной среде и материальных потерь составляет не более 240 тыс. рублей
- в) размер материального ущерба составляет не более 12 млн рублей
- ✓  г) количество людей, погибших и (или) получивших ущерб здоровью, составляет не более 10 человек
- д) количество людей, погибших и (или) получивших ущерб здоровью, составляет свыше 50 человек, но не более 500 человек

5. **Какие из перечисленных служб входят в перечень экстренных оперативных служб, вызов которых круглосуточно и бесплатно обязан обеспечить оператор связи пользователю услугами связи?**
- а) служба реагирования в чрезвычайных ситуациях
  - б) служба «ГосОтлов»
  - в) служба «Антитеррор»
  - г) служба экстренного реагирования на землетрясение
  - д) служба вневедомственной охраны МВД РФ
6. **К опасным геологическим явлениям и процессам относят**
- а) переработку берегов
  - б) просадку в лессовых грунтах
  - в) сель
  - г) торфяной пожар
  - д) пыльную бурю
7. **Сообщения какой тематики принимает Главное управление по противодействию экстремизму МВД России?**
- а) о скулшутинге
  - б) о распространении информации, наносящей вред здоровью и развитию детей
  - в) об актах суицида
  - г) об интернет-мошенничестве
  - д) о пропаганде социальной, расовой, национальной или религиозной розни
8. **Выберите периоды максимальной работоспособности в течение суток.**
- а) 6:00–8:00
  - б) 9:00–12:00
  - в) 12:00–15:00
  - г) 16:00–18:00
  - д) 19:00–21:00
9. **При каких состояниях оказывается первая помощь?**
- а) отсутствие сознания
  - б) повышение температуры тела до 39 °С
  - в) повышение артериального давления
  - г) отравление
  - д) аллергическая реакция на коже в виде характерной сыпи (крапивница)
10. **Какие мероприятия по поддержанию проходимости дыхательных путей применяются при оказании первой помощи?**
- а) придание устойчивого бокового положения
  - б) использование S-образного воздуховода
  - в) интубация трахеи
  - г) использование медицинской лицевой маски с обратным клапаном
  - д) запрокидывание головы с подъёмом подбородка

### Теоретические задания

#### Задание 1

Расположите предложенные фрагменты в верной последовательности, чтобы в итоге получилось определение.


для перевозки по		1
дорогам людей, грузов или		2
оборудования, установленного на нём		3
устройство, предназначенное		4

Запишите термин, определение которому Вы составили.

**ТРАНСПОРТНОЕ СРЕДСТВО**

Укажите, какие сигналы рукой должен подать велосипедист для обозначения:

- поворот направо;
- торможение.



поворот направо	торможение
-----------------	------------

## Задание 2

Сопоставьте изображения визуальных сигналов, передаваемых потерпевшими бедствие экипажам поисково-спасательных самолётов (вертолёт), с их значениями.

Изображения визуальных сигналов	Значения визуальных сигналов
	«Операции закончены»
	«Требуется медицинская помощь»
	«Требуется карта и компас»
	«Не понял»
	«Всё в порядке»
	«Судно серьёзно повреждено»
	«Требуется топливо и масло»
	«Двигаемся в этом направлении»
	«Нужны медикаменты»
	«Нужны пища и вода»

105

Гондратова Ева 8 "А"  
ВСЕРОССИЙСКАЯ ОЛИМПИАДА  
ШКОЛЬНИКОВ ПО ОБЖ. 2023–2024 уч. г.  
ШКОЛЬНЫЙ ЭТАП. 7–8 КЛАССЫ

Тестовые задания

Определите один правильный ответ.

За правильный ответ начисляется 2 балла.

898

1. Определите смысловое значение изображённого дорожного знака.

- а) велосипедная дорожка  
б) приоритет велосипеда при движении  
в) полоса для велосипедистов  
г) пересечение с велосипедной дорожкой или велопешеходной дорожкой



2. Владелец имеет право оставлять свою собаку привязанной возле магазина на

- а) неограниченное время в наморднике  
б) неограниченное время, на коротком поводке  
в) ограниченное время, на длинном поводке, но в наморднике  
г) ограниченное время, на коротком поводке

3. Определите смысловое значение данного знака на водных объектах г. Москвы.

- а) «В воде проводятся очистительные работы»  
б) «Стой! Опасное дно»  
в) «Входить в воду запрещено!»  
г) «Опасно! Грязная вода»



4. Молния опасна тогда, когда вслед за вспышкой следует

- а) сильный порывистый ветер  
б) раскат грома  
в) ливневый дождь  
г) период затишья в течение не менее 10 секунд

5. Резкое кратковременное усиление ветра до 20–30 м/с и выше, сопровождающееся изменением его направления, связанное с конвективными процессами, – это

- а) вихрь  
б) смерч  
в) циклон  
г) шквал

- 2
6. **Отрыв и падение больших масс горных пород на крутых и обрывистых склонах гор, речных долин и морских побережий, происходящих главным образом за счёт ослабления связности горных пород под влиянием процессов выветривания, деятельности поверхностных и подземных вод, является**

а) оползнем  
б) карстовой просадкой  
в) обвалом  
г) курумом

- 2
7. **Кому в первую очередь необходимо сообщить об обнаружении подозрительного предмета в вагоне метро?**

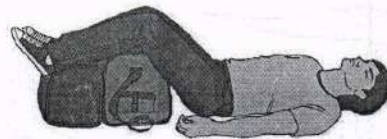
а) сотруднику МЧС по телефону  
б) дежурному на станции по переговорному устройству  
в) сотруднику полиции по телефону  
г) машинисту поезда по переговорному устройству

- 2
8. **Наибольшей энергетической ценностью обладают**

а) белки  
б) углеводы  
в) жиры  
г) минеральные вещества

- 2
9. **При какой травме и (или) состоянии пострадавшему придают оптимальное положение тела, изображённое на рисунке?**

а) большая кровопотеря, пострадавший в сознании  
б) большая кровопотеря, пострадавший без сознания  
в) травма груди, пострадавший в сознании  
г) травма головы, пострадавший без сознания



- 2
10. **При проведении искусственного дыхания выдох (вдох для пострадавшего) рекомендуется выполнять в течение**

а) одной секунды  
б) трёх секунд  
в) пяти секунд  
г) десяти секунд

**Определите два правильных ответа.**

За каждый правильный ответ начисляется 2 балла.

1. **Определите смысловое значение и область применения данного знака безопасности на объектах инфраструктуры ОАО «РЖД».**

- 2
- а) устанавливается на территории платформ железнодорожных станций и вокзалов, у переходов и переездов через железнодорожные пути
  - б) «Берегись поезда!»
  - в) устанавливается в местах прохода граждан через железнодорожные пути
  - г) «Движение скоростных поездов»
  - д) «Переходить через железнодорожные пути опасно»



2

2. **Определите смысловое значение и группу данного знака безопасности.**

- а) предупреждающий знак
- б) «Ядовитые вещества»
- в) предписывающий знак
- г) «Запрещается брать руками»
- д) «Опасно. Едкие и коррозионные вещества»



3. **Какие узлы рекомендуется использовать для закрепления веревок к опоре?**

- 2
- а) булинь
  - б) грейпвайн
  - в) «двойной проводник»
  - г) прусик
  - д) «штык»

4. **Выберите параметры природной ЧС локального характера, территория которой не выходит за пределы территории объекта.**

- 2
- а) количество людей, погибших и (или) получивших ущерб здоровью, составляет не более 50 человек
  - б) размер ущерба окружающей природной среде и материальных потерь составляет не более 240 тыс. рублей
  - в) размер материального ущерба составляет не более 12 млн рублей
  - г) количество людей, погибших и (или) получивших ущерб здоровью, составляет не более 10 человек
  - д) количество людей, погибших и (или) получивших ущерб здоровью, составляет свыше 50 человек, но не более 500 человек



5. **Какие из перечисленных служб входят в перечень экстренных оперативных служб, вызов которых круглосуточно и бесплатно обязан обеспечить оператор связи пользователю услугами связи?**

- 2
- а) служба реагирования в чрезвычайных ситуациях
  - б) служба «ГосОтлов»
  - в) служба «Антитеррор»
  - г) служба экстренного реагирования на землетрясение
  - д) служба вневедомственной охраны МВД РФ

6. **К опасным геологическим явлениям и процессам относят**

- 2
- а) переработку берегов
  - б) просадку в лессовых грунтах
  - в) сель
  - г) торфяной пожар
  - д) пыльную бурю

7. **Сообщения какой тематики принимает Главное управление по противодействию экстремизму МВД России?**

- 2
- а) о скулшутинге
  - б) о распространении информации, наносящей вред здоровью и развитию детей
  - в) об актах суицида
  - г) об интернет-мошенничестве
  - д) о пропаганде социальной, расовой, национальной или религиозной розни

8. **Выберите периоды максимальной работоспособности в течение суток.**

- 2
- а) 6:00–8:00
  - б) 9:00–12:00
  - в) 12:00–15:00
  - г) 16:00–18:00
  - д) 19:00–21:00

9. **При каких состояниях оказывается первая помощь?**

- 2
- а) отсутствие сознания
  - б) повышение температуры тела до 39 °С
  - в) повышение артериального давления
  - г) отравление
  - д) аллергическая реакция на коже в виде характерной сыпи (крапивница)

10. **Какие мероприятия по поддержанию проходимости дыхательных путей применяются при оказании первой помощи?**

- 2
- а) придание устойчивого бокового положения
  - б) использование S-образного воздуховода
  - в) интубация трахеи
  - г) использование медицинской лицевой маски с обратным клапаном
  - д) запрокидывание головы с подъемом подбородка

### Теоретические задания

#### Задание 1

Расположите предложенные фрагменты в верной последовательности, чтобы в итоге получилось определение.

для перевозки по	1
дорогам людей, грузов или	2
оборудования, установленного на нём	3
устройство, предназначенное	4

Запишите термин, определение которому Вы составили.

*Мопед*

Укажите, какие сигналы рукой должен подать велосипедист для обозначения:

- поворот направо;
- торможение.



поворот направо	торможение
-----------------	------------

*55*

## Задание 2

Сопоставьте изображения визуальных сигналов, передаваемых потерпевшими бедствие экипажам поисково-спасательных самолётов (вертолётов), с их значениями.

Изображения визуальных сигналов	Значения визуальных сигналов
	«Операции закончены»
	«Требуется медицинская помощь»
	«Требуется карта и компас»
	«Не понял»
	«Всё в порядке»
	«Судно серьёзно повреждено»
	«Требуется топливо и масло»
	«Двигаемся в этом направлении»
	«Нужны медикаменты»
	«Нужны пища и вода»

1+1

### Задание 3

Каждому из перечисленных событий подберите соответствующую ему дату.

Наименование профессионального праздника (намятной даты)	Число и месяц, когда это событие празднуется
Всемирный день гражданской обороны —	30 апреля
День участников ликвидации последствий радиационных аварий и катастроф и памяти жертв этих аварий и катастроф —	27 декабря
День пожарной охраны России —	26 апреля
День сотрудника органов внутренних дел Российской Федерации —	10 ноября
День создания органов государственного пожарного надзора —	1 марта
День Героев Отечества —	4 октября
День спасателя Российской Федерации —	18 июля
День памяти о россиянах, исполнявших служебный долг за пределами Отечества +	15 февраля
День государственной горноспасательной службы	6 июля
День гражданской обороны России	9 декабря

10